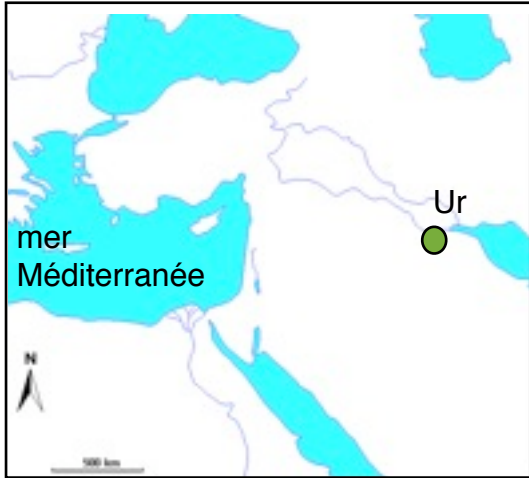


Activité 1 - Découvrons une cité d'Orient du IIIe millénaire av.J.C. : Ur en Mésopotamie

Carte de l'Orient au IIIe millénaire av.J.C.



Mais 10000

Le
croissant
fertile

3 500

2 500

1 500

500


→ Ce que nous apprend l'archéologie...



Image satellite du site archéologique d'Ur (actuellement en Irak)
Sources Google Earth



Vestiges retrouvés dans les tombes royales d'Ur
(2 600-2 200 av.J.C.) cf. Belin p.17



Reconstitution de la ville d'Ur au IIIe millénaire av. J.C.
Sources Belin 2009 p.17



✍ Je rédige

Décris le temple de la cité d'Ur du III^e millénaire av.J.C.

Commence par situer le bâtiment (région, cité, fleuve) puis décris sa forme, ses matériaux... Enfin précise comment les habitants de la cité le nommaient et quelle était sa fonction à l'époque. tu trouveras ces informations à partir des fiches de travail faites en classe.

Rédige sur une feuille de classeur, tu recopieras ton texte après correction du professeur.

Qu'est-ce que ces documents nous apprennent sur l'organisation de la ville d'Ur au III^e millénaire av.J.C.?

A partir des documents de la page 1 puis de ceux de la page 3, complète le tableau de synthèse suivant.

A quoi ressemble la ville?	Comment est gouvernée la ville?	De quoi vit la population de la ville?	Les habitants d'Ur ont-ils des croyances religieuses ? Précise.	Les habitants possèdent-ils des connaissances techniques ? Lesquelles?

Conclusion : Dès le III^e millénaire av. J.C.,

→ Ce que nous apprennent les textes de l'époque...

1-Les archéologues ont retrouvé ces textes parmi d'autres vestiges sur le site d'Ur. De quand datent-ils? Qu'en déduis-tu ?

Place cette information sur la frise de la page 1.

Doc 1-Extrait du texte écrit sur une tablette d'argile vers 2100 av. J.C.

«Ur, cité de la destinée favorable, noble trône de la royauté, cité princière de Sumer, bâtie en un lieu pur...Je suis Ur-Nammu. Du ciel, la royauté est descendue vers moi. Uta, le dieu du soleil et de la justice, a placé le mot juste dans ma bouche. Je suis le protecteur de la ville et je veille pour mon peuple à l'abondance du bétail et à la fertilité des champs. Pour Nanna, le dieu-lune, j'ai bâti un temple.»

Sources Belin 2009 page 17

Doc 2-Extrait du recueil de lois du roi d'Ur promulgué par Shulgi, roi d'Ur de 2094 à 2047 av. J.C.

«Si quelqu'un a commis un meurtre, on mettra cet homme à mort. Si quelqu'un a détenu arbitrairement (sans raison) quelqu'un d'autre, cet homme ira en détention et il payera 15 sicles (8 grammes) d'argent.»

Sources Hatier 2009 page 22

Doc 3- Prologue de la joute entre l'oiseau et le poisson, sud de la Mésopotamie, IIIe millénaire av. J.C.

«Lorsque les dieux An et Enlil eurent établi leur plan concernant l'univers, Enki rassembla les eaux de toutes les contrées et répartit les lieux habitables ! Il apporta de ses mains les eaux vives qui rendraient généreuses les semences. Il amena avec lui Tigre et Euphrate dans lesquels il fit arriver les eaux de toutes parts. Il prit soin des moindres canaux, installa jusqu'aux rigoles d'irrigation (...).Il institua dans le territoire villes et hameaux et multiplia les têtes noires (les habitants). Pour guide, il leur donna un roi qu'il plaça à leur tête et qu'il fit rayonner partout comme une lumière qui ne s'éteint jamais.»

Sources Hatier page 22

2-Pourquoi ces documents écrits nous sont-ils précieux?

3- Fais comme l'historien, complète tes premières observations à l'aide de ces informations dans le tableau précédent (page 2).

4- Pourquoi les hommes ont-ils inventé l'écriture? Réponds à partir des quatre documents de cette fiche.

Doc 4-
insérer une tablette d'argile
inventaire du troupeau d'ânes d'un
propriétaire (vers 2800 av JC)
Musée du Louvre

Activité 2 -La cité d'Ur est-elle la seule société organisée du IIIe millénaire en Orient ?



Sur la rive gauche du Nil, vers 2 600 av.J.C., le pharaon Khéops fait construire son tombeau, une immense pyramide de 147 m.

Libre de droits Wikimedia

titre :



Le croissant fertile

*sources Hatier 2009 p. 25
ou magnard p.15
ou le site du Louvre*

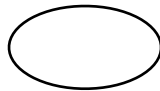
Textes peints sur les murs des caveaux des pyramides.

Extrait des Textes des pyramides, vers 2 400 av. J.C.

« Réunis tes os et laisse tes membres se tendre, secoue de toi impureté et délie-toi de tes liens. Ouvre ta tombe, détruis les portes et les murs qui l'entourent. On t'ouvre les deux battants des portes du ciel. «Bienvenue !» dit Isis, et «en paix» ! , dit Nephtys.»

Alain HOGOT

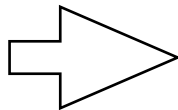
légende :



le croissant fertile

Stèle gravée et peinte du tombeau de la princesse Nefertiabet, soeur de Khéops, vers 2550 av. J.C., musée du Louvre, Paris. Les hiéroglyphes nomment ce dont la princesse aura besoin pour vivre dans l'au-delà.

La société égyptienne est aussi une société organisée du IIIe millénaire av. J.C.

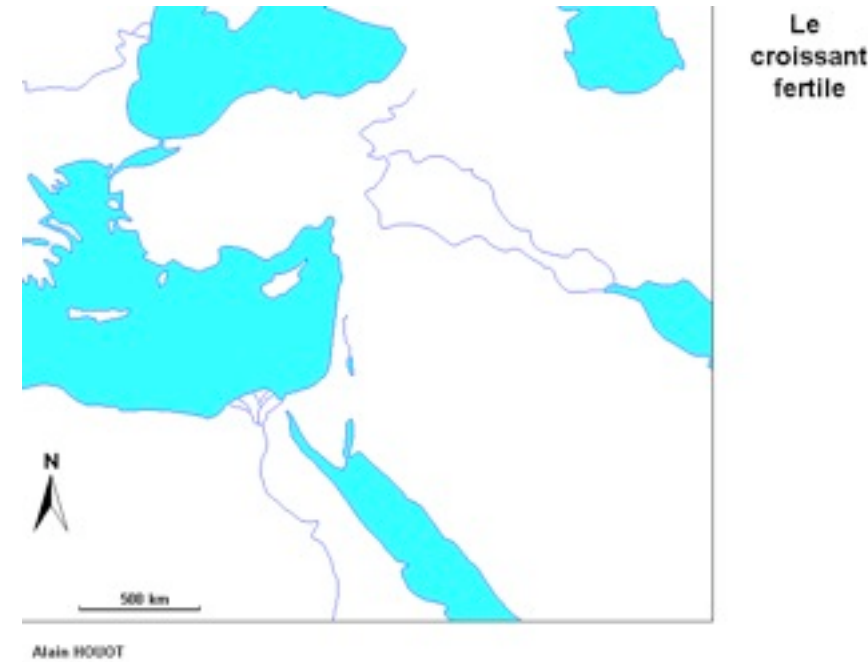


une société qui a à sa tête un.....	une société capable de bâtir des.....	une société qui a des croyances...	une société qui pour communiquer possède une ...
<i>pharaon qui contrôle un grand territoire, un Etat le long d'une vallée fertile, le Nil.</i>	<i>pyramides, immenses tombeaux réservés aux pharaons et leur famille. Leur construction nécessite des techniques avancées et une nombreuse main d'oeuvre.</i>	<i>religieuses. Ils croient en plusieurs dieux honorés dans un temple. Ils sont polythéistes. Ils croient en une vie après la mort.</i>	<i>écriture, les hiéroglyphes que maîtrisent les scribes.</i>

**** Première séquence : l'Orient ancien au IIIe millénaire av. J.C. ****

Ce que je dois être capable de faire

- situer sur un fond de carte : *utilise le fond de carte ci-contre pour t'exercer.*
 - la mer Méditerranée
 - la mer Rouge
 - la Mésopotamie
 - l'Égypte
 - le Tigre
 - le Nil
 - le croissant fertile



- situer sur une frise chronologique le IIIe millénaire av. J.C.
- dater les premières sociétés organisées de Mésopotamie et d'Égypte : IIIe millénaire av.J.C.
- dater les premières écritures d'Orient : IIIe millénaire av. J.C.
- décrire un monument (*revoir la description de la ziggourat d'Ur*)
- expliquer le rôle de l'écriture (*voir la question 4 page 3*)
- expliquer comment les premières sociétés d'Orient sont organisées (*voir tableaux de synthèse pages 2 et 4*)

Evaluation sur la première séquence : **l'Orient ancien au IIIe millénaire av. J.C.**

1) Je sais identifier des repères géographiques sur une carte.

A quoi correspondent les lettres indiquées sur la carte?

A une mer	B une mer.....	C un fleuve
D un fleuve.....	E une région.....	F un pays.....

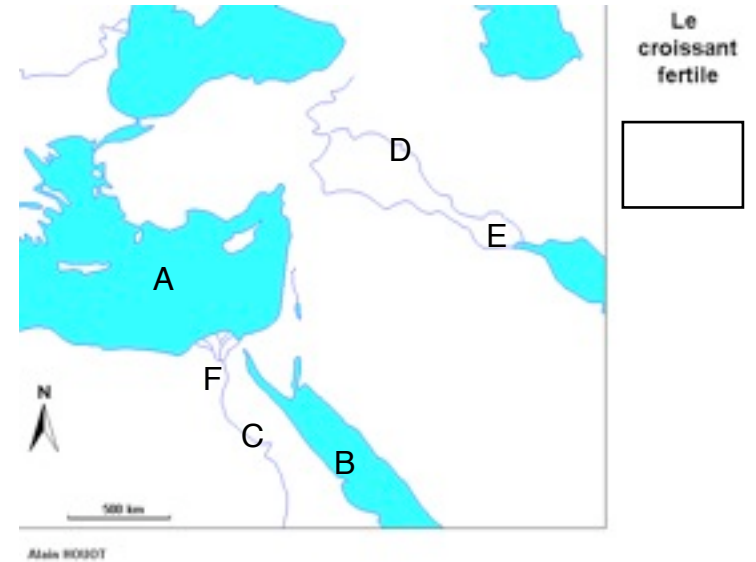
Indique en vert où se situe le croissant fertile. Code la légende de la carte en vert.

2) D'après les documents 1 et 2 et tes connaissances, explique pourquoi on peut dire que les sociétés de l'Orient sont des sociétés organisées. Reprends les phases ci-dessous et complète-les pour répondre à cette consigne.

- Ce sont des sociétés organisées car elles ont à leur tête un.....
- Ce sont des sociétés capables de bâtir des.... , des temples (décris-les)...
- Enfin les hommes ont des croyances religieuses.....

3) A quelle époque ces sociétés ont-elles inventé l'écriture?

4) Explique quels sont les différents intérêts de l'écriture (*aide-toi du doc 2*).



Belin page 17

Doc 1-Reconstitution de la cité d'Ur au IIIe millénaire av. J.C.

Magnard page 17

Doc 2-Des fonctionnaires égyptiens mesurent et enregistrent pour Pharaon la récolte de grains apportée par des paysans. Fresque tombale, IIIe millénaire av.J.C., Thèbes (Egypte)